



**EVALUAREA COMPETENȚELOR FUNDAMENTALE
LA FINALUL CLASEI a II-a
2015**

Test 1

MATEMATICĂ

Județul / sectorul.....

Localitatea.....

Școala.....

Numele și prenumele elevei / elevului.....





.....

Clasa a II-a.....

Băiat

Fată

Cei 24 de elevi din clasa a II-a, împreună cu doamna învățătoare, au fost invitați să viziteze o livadă de pomi fructiferi. Împreună cu fermierul, s-au plimbat prin livadă, iar acesta le-a spus multe lucruri interesante. Copiii au vrut să știe cât mai multe, așa că au început să pună întrebări. Fermierul le-a spus câți pomi sunt în livadă. Numărul acestora este scris în tabelul de mai jos.

			
198 meri	65 peri	100 pruni	79 piersici

1. Câți meri și piersici sunt în total în livadă? Întreabă Ionuț.
Încercuiește litera corespunzătoare răspunsului corect.

- a) 119
- b) 165
- c) 277
- d) 298

Nu se completează de către elev
 COD

1.

2. Irina și Vlad compară numărul **merilor** cu numărul **prunilor**.
Scrie, în căsuța de mai jos, unul dintre semnele <, =, > pentru ca relația să fie corectă.

198 100

Nu se completează de către elev
 COD

2.

7. Fermierul a adus câteva fructe din livadă și, după ce le-a spălat, le-a așezat pe o farfurie, ca în imaginea de mai jos. În ce parte a așezat **prunele**?

Încercuiește litera corespunzătoare răspunsului corect.




- a) în partea stângă;
- b) în partea dreaptă;
- c) în centrul farfuriei;
- d) lângă farfurie.

Nu se completează de către elev
COD

7.	<input type="text"/>
----	----------------------

8. Ana și Mircea ajută la culesul fructelor. Află câte kilograme de fructe culeg cei doi copii, știind că Ana a cules 3 lădițe a câte 10 kg fiecare, iar Mircea a cules 5 lădițe a câte 9 kg fiecare.

Scrie, pe spațiul dat, rezolvarea problemei.

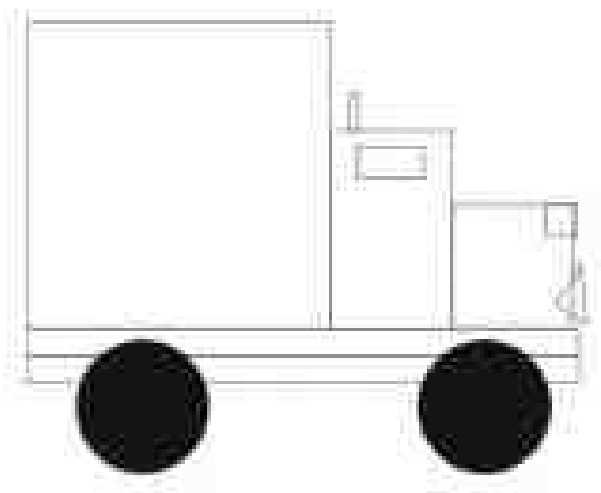


Nu se completează de către elev
COD

8.

9. Pe lângă copii a trecut camionul care transportă fructele din livadă la piață. Ce formă geometrică folosești pentru a desena roțile camionului?

Încercuiește litera corespunzătoare răspunsului corect.






- a) cerc;
- b) dreptunghi;
- c) pătrat;
- d) triunghi.

Nu se completează de către elev
COD

9.

10. Mircea și Ana au așezat câteva fructe ca în șirul de mai jos.
– Ce fructe urmează în șir? a vrut să afle fermierul.
Încercuiește litera corespunzătoare răspunsului corect.



Nu se completează de către elev
COD

10.

11. Copiii au stat în livadă de la ora 9.00 până la ora 13.00. Câte ore au petrecut copiii în livadă?

Încercuiește litera corespunzătoare răspunsului corect.

- a) 2 ore;
- b) 3 ore;
- c) 4 ore;
- d) 5 ore.

Nu se completează de către elev
COD

11.

12. Fermierul îi duce pe elevi la magazin, unde se vând fructe din livadă. Prețurile fructelor sunt scrise în tabelul de mai jos:

Fructe	Preț pe kg
mere	3 lei
pere	4 lei
prune	2 lei
piersici	5 lei

Mihai are 15 lei. Poate el să cumpere câte 1 kilogram din fiecare soi de fructe?

Explică, în spațiul dat, răspunsul tău.

Da, pentru că _____

Nu, pentru că _____

Nu se completează de către elev
COD

12.

FELICITĂRI, AI AJUNS LA SFÂRȘITUL TESTULUI!

MULȚUMIM PENTRU PARTICIPARE!